

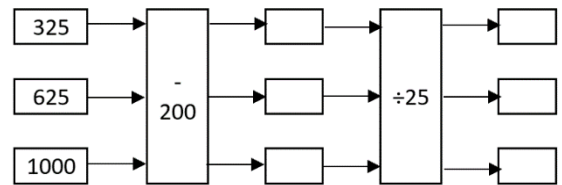
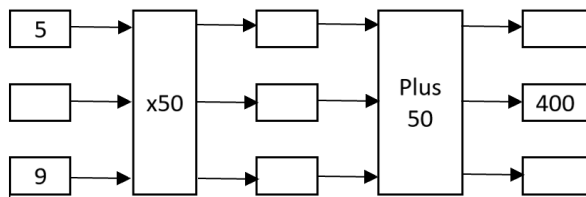
Vraag 4 (9)

Skryf die getalsin nee ren los dan op:

1. Op Maandag het Marie 1462 blikkies versamel en herwin en toe nog 3608 op Woensdag. Hoeveel blikkies het sy in total versamel en herwin?
2. Vusi wen R5000 en spandeer R2805 daarvan, hoeveel het hy oor?
3. Tannie Grietjie brei 139 beertjies vir kinders in 'n hospitaal. As sy twee blou oe op elke beertjie vaswerk – hoeveel ogies moet sy koop?

Vraag 5 (6)

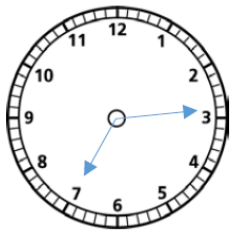
Voltooi die spinnekopdiagramme



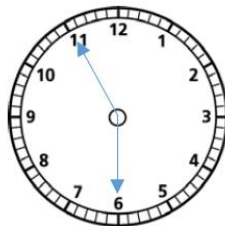
Vraag 6 (8)

Skryf die tyd in woorde:


1.




2.



3.



4.



Skryf die digitale tyd neer:

5. Tien oor tien (vm)
6. Twintig voor een (nm)

Skryf die getalsin en los dan op

7. Jou pa ry half ses van werk af. Die rit neem hom 45min. Hoe laat kom hy by die huis aan?
8. Sara begin 14:10 met haar huiswerk en is om 14:55 klaar. Hoe lank was sy besig met haar huiswerk?

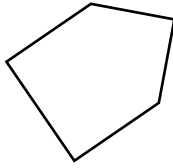
Vraag 7 (8)

1. Benoem die 2 figure en se of hulle reelmatig of onreelmatig is. Omkring die vierhoeke.

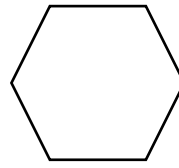
a.



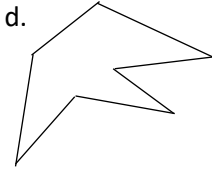
b.



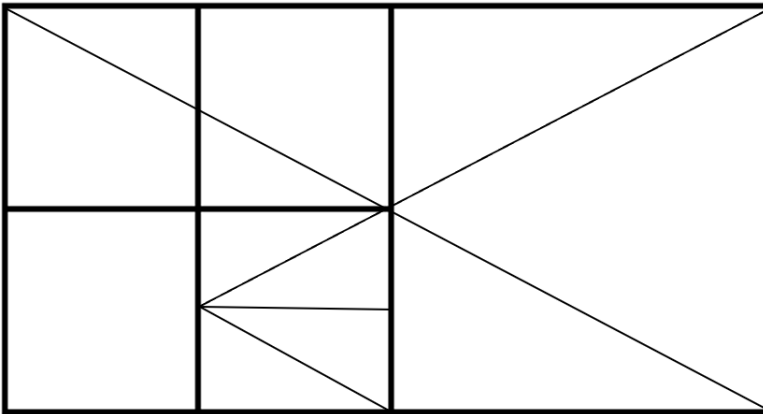
c.



d.



2. Hoeveel driehoeke, vierkante en reghoeke is in die volgende figuur.



Vraag 8 (5)

Bestudeer die sirkelgrafiek en beantwoord dan die vrae wat volg.



Afrikaans ($\frac{1}{8}$)

Engels ($\frac{1}{8}$)

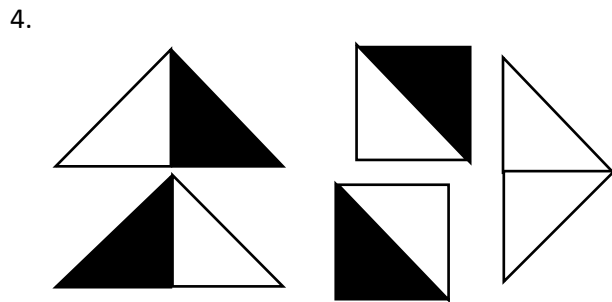
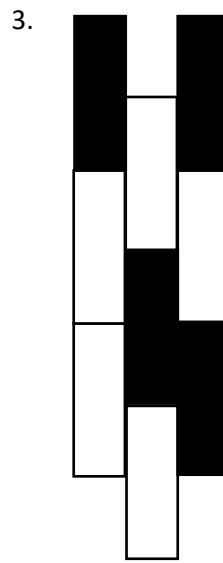
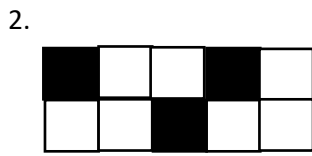
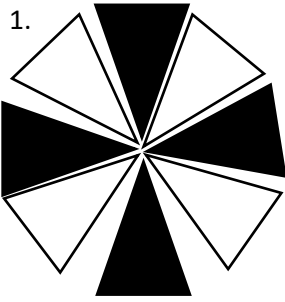
Wiskunde ($\frac{1}{4}$)

Kuns ($\frac{1}{2}$)

1. Watter breukdeel van leerders geniet kuns die meeste?
2. Watter vak/ke hou die minste leerders van?
3. Watter breukdeel maak Afrikaans en Engels saam op?
4. Hoeveel leerders hou die meeste van Wiskunde?
5. Hoeveel leerders hou die meeste van Kuns?

Vraag 9 (10)

Watter breukdeel is ingekleur in elk van die volgende:



5. Gebruik die breukemuur om $>$; $<$ of $=$ in te vul.

1 Eenheid							
$\frac{1}{2}$							
$\frac{1}{4}$							
$\frac{1}{8}$							

$\frac{1}{2}$ $\frac{3}{4}$ $\frac{2}{4}$ $\frac{1}{2}$ $\frac{5}{8}$ $\frac{1}{2}$ $\frac{2}{4}$ $\frac{3}{8}$ $\frac{4}{8}$ $\frac{2}{4}$ $\frac{3}{4}$ $\frac{7}{8}$

6. Skryf 'n getalsin en los dan op
- Dit neem jou 'n halfuur om die gras te sny. Hoeveel minute is dit?
 - Jy eet $\frac{3}{5}$ van 'n boks sjokolades. Daar was 25 sjokolades in die boks. Hoeveel het jy geet?

-----EINDE-----

Graad 4 Junie -----Totaal: 75 ----- Tyd: 90min

Vraag 1 (10)

Onderstreep die regte antwoord

- Die plekwaarde van 4 in 15493 is
4E ; 4D ; **4H** ; 4T
- $(1 \times 10) + (2 \times 1000) + (6 \times 1) + (0 \times 100) =$
2160 ; 2610 ; 2061 ; **2016**
- Die som van 8050 en 850 is
8800 ; **8900** ; 9000 ; 9100
- Die helfte van 5706 is
2343 ; 2803 ; **2853** ; 2553
- Watter waarde ontbreek: $(12 \times 6) + 8 = \underline{\quad} \div 2$
80 ; 180 ; **160** ; 90
- 20:30 in woorde is:
Half nege; half agt; dertig minute oor agt ; dertig minute voor nege
- Die ongelyke getal net na 9011 is
9111; 10001 ; **9013** ; 10011
- $9 \times 20 \times 20 =$
2000 ; 2600 ; 3000 ; **3600**
- Wat is die korrekte antwoord, as jy by die naaste 100 probeer uitkom
 $872 + 8 = 880$; $872 + 18 = 900$; **$872 + 28 = 900$** ; $872 + 38 = 910$
- As 6 DVD's, elkeen R25 kos. Wat kos hulle saam?
R125 ; R135 ; **R150** ; R160

Vraag 2 (7)

Gebruik die volgende syfers en beantwoord die vrae: **7 3 0 8**

- Die grootste 4 syfer getal wat jy kan maak is: **8730**
- Die kleinste 4 syfer getal wat jy kan maak is: **3078**
- Maak 'n 4 syfer getal waar die 8 se plekwaarde honderde is en die 0 se plekwaarde tiene is:
7803
- Skryf 7308 uit in woorde: **Seweduisend driehonderd en agt**
- Rond 8703 af tot die naaste:
10: **8700** 100: **8700** 1000: **9000**

Vraag 3 (12)

- $2491 + 1645 =$ **4136**
- $9050 - 2462 =$ **6588**
- $4602 + 2195 + 3555 =$ **10352**
- $98 \times 40 =$ **3920**
- $125 \times 8 =$ **1000**
- $86 \div 3 =$ **28 res 2**

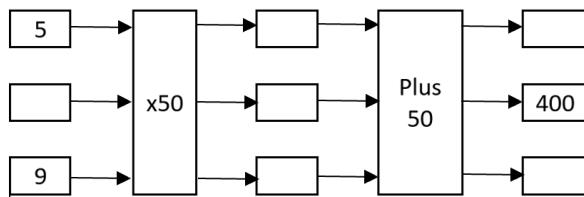
Vraag 4 (9)

Skryf die getalsin neer en los dan op:

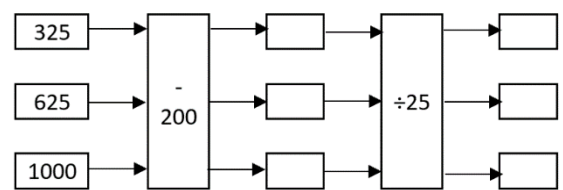
- Op Maandag het Marie 1462 blikkies versamel en herwin en toe nog 3608 op Woensdag. Hoeveel blikkies het sy in total versamel en herwin? $1462 + 3608 = 5070$
- Vusi wen R5000 en spandeer R2805 daarvan, hoeveel het hy oor? $5000 - 2805 = 2195$
- Tannie Grietjie brei 139 beertjies vir kinders in 'n hospitaal. As sy twee blou oe op elke beertjie vaswerk – hoeveel ogies moet sy koop? $139 \times 2 = 278$

Vraag 5 (6)

Voltooi die spinnekopdiagramme



$$\begin{aligned} 5 \times 50 &= 250 & 250 + 50 &= 300 \\ 400 - 50 &= 350 & 350 \div 50 &= 7 \\ 9 \times 50 &= 450 & 450 + 50 &= 500 \end{aligned}$$

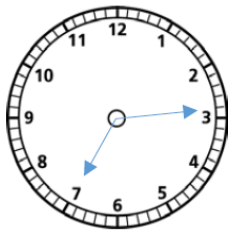


$$\begin{aligned} 325 - 200 &= 125 & 125 \div 25 &= 5 \\ 625 - 200 &= 425 & 425 \div 25 &= 17 \\ 1000 - 200 &= 800 & 800 \div 25 &= 32 \end{aligned}$$

Vraag 6 (8)

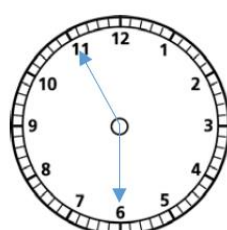
Skryf die tyd in woorde:

1.



1. Kwart oor sewe

2.



2. Vyf voor ses

3.



3. Half drie (voormiddag)

4.



4. Kwart voor vyf (namiddag)

Skryf die digitale tyd neer:

5. Tien oor tien (vm) **10:10**

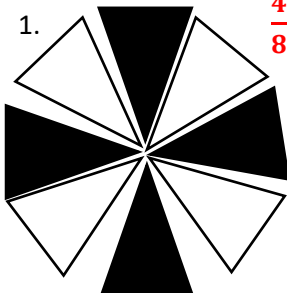
6. Twintig voor een (nm) **12:40**


Skryf die getalsin en los dan op

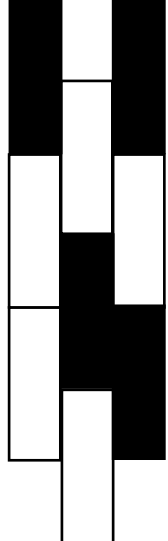
- Jou pa ry half ses van werk af. Die rit neem hom 45min. Hoe laat kom hy by die huis aan? **18:15**

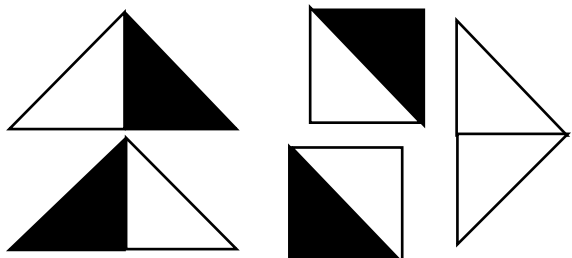
Vraag 9 (10)

Watter Breukdeel is ingekleur in elk van die volgende:

1.  $\frac{4}{8}$

2.  $\frac{3}{10}$

3.  $\frac{4}{9}$

4. $\frac{4}{10}$ 

5. Gebruik die breukemuur om $>$; $<$ of $=$ in te vul.

1 Eenheid							
$\frac{1}{2}$							
$\frac{1}{4}$							
$\frac{1}{8}$							

$\frac{1}{2} < \frac{3}{4}$
 $\frac{2}{4} = \frac{1}{2}$
 $\frac{5}{8} > \frac{1}{2}$
 $\frac{2}{4} > \frac{3}{8}$
 $\frac{4}{8} = \frac{2}{4}$
 $\frac{3}{4} < \frac{7}{8}$

6. Skryf 'n getalsin en los dan op

- a. Dit neem jou 'n halfuur om die gras te sny. Hoeveel minute is dit? $\frac{1}{2} \times 60 = 30min$
- b. Jy eet $\frac{3}{5}$ van 'n boks sjokolades. Daar was 25 sjokolades in die boks. Hoeveel het jy geet? $\frac{3}{5} \times 25 = 15$

-----EINDE-----